

PSICOTÉCNICOS 01

01.- En el siguiente listado de usuarios y sus números de teléfono por razones técnicas van a ser cambiados de la siguiente forma:

- El nº 3 se cambia por el nº 9.
- El nº 2 se cambia por el nº 8.
- El nº 4 se cambia por el nº 7.
- El nº 6 se cambia por el nº 1.

Los demás números siguen como estaban, hay que descifrar los nuevos números de teléfono teniendo en cuenta los cambios producidos:

- 1.- Fernanda Adarre - 38 47 21 -
- 2.- Joaquín Adelmón - 25 67 88 -
- 3.- Victoria Aguilar - 39 97 12 -
- 4.- Antonio Almagro - 55 77 63 -
- 5.- Darío Arcos - 61 46 36 -
- 6.- Alberto Baena - 22 84 59 -
- 7.- Nieves Andreu - 31 87 64 -
- 8.- África Agramunt - 44 31 26 -
- 9.- Francisco Bellpuig - 16 71 84 -
- 10.- Júlia Novoa - 88 91 34 -

02.- La palabra METAMORFOSIS es al nº 123415674890 como el nº 1205946430 es a la palabra:

- a) Apostemero.
- b) Aposesionar.
- c) Aportadero.
- d) Apósitos.

03.- ¿Cuál es el valor de P, si 40 es a 20 como P es a 2?

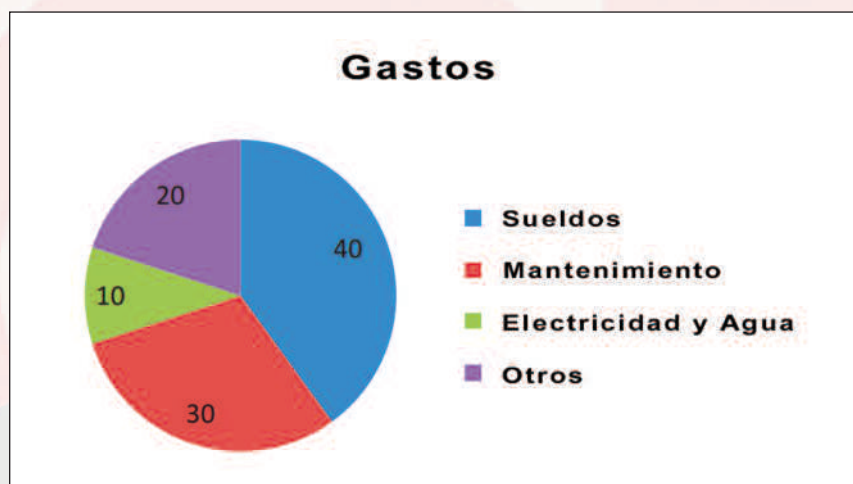
- a) 2.
- b) 4.
- c) 6.
- d) 8.

04.- ¿Cuántos cubos hay en la imagen?



- a) 21.
- b) 23.
- c) 19.
- d) 20.

En este gráfico vemos los gastos de una empresa de paquetería.



05.- Si la empresa gasta 8.400 € en sueldos, ¿Cuánto dinero destinó la empresa a las facturas de electricidad y agua?

- a) 2.100.
- b) 840.
- c) 4.200.
- d) 2.000.

06.- ¿Cuánto dinero pagó la empresa en otros gastos?

- a) 3.000.
- b) 2.000.
- c) 1.680.
- d) 4.200.

07.- ¿Qué cantidad total gasta la empresa al mes?

- a) 21.000.
- b) 22.000.
- c) 23.000.
- d) Ninguna es correcta.

08.- ¿De cuántos grados es la porción del círculo que corresponde al pago del gasto de los sueldos?

- a) 150.
- b) 120.
- c) 100.
- d) 144.

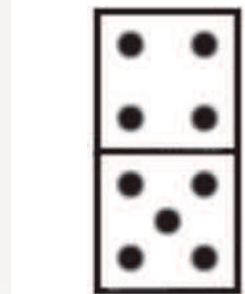


09.- La palabra APRESAMIENTO es al nº 123451674890 como el nº 1205946430 es a la palabra:

- a) apostemero.
- b) aposeionar.
- c) aportadero.
- d) apósitos.

10.- ¿Qué ficha irá en lugar de la blanca?

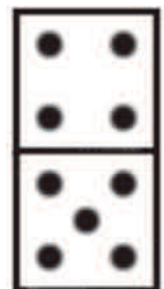
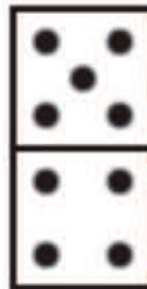
a)

c)

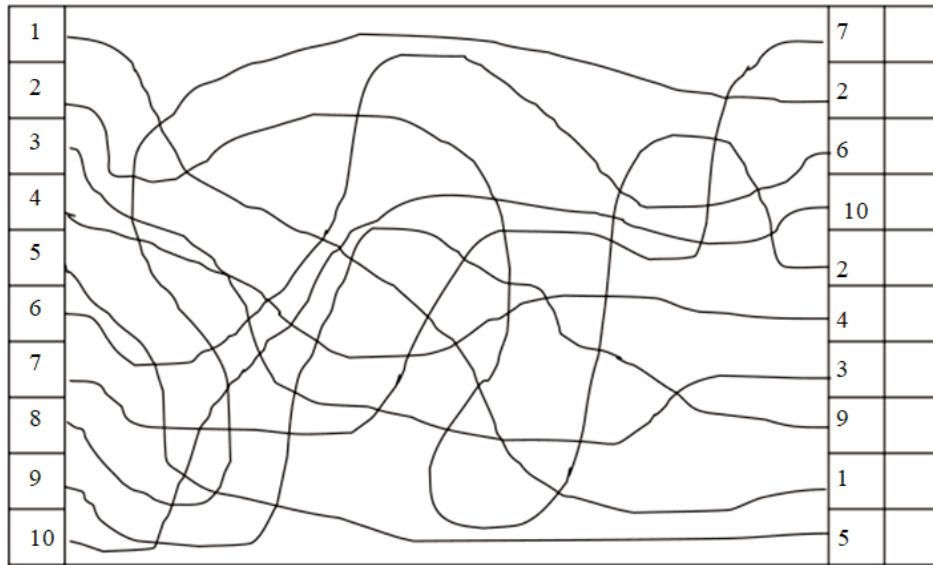


b)

d)



11.- Sigue la línea y escribe el número que le corresponde.



12.- Una madre tiene 33 años y sus 2 hijos tienen 3 y 10 años. ¿Cuántos años han de pasar para que la suma de estos sea igual que la edad de su madre?

- a) 12.
- b) 15.
- c) 20.
- d) 25.

Lee con atención los siguientes datos sobre cuatro limpiadores.

- a) El limpiador destinado en la jaula de la Jirafa no es Pedro.
- b) José tiene 35 años y no está en el Sector 1.
- c) Antonio está en el Sector 2 pero no limpia el Acuario.
- d) El limpiador de 40 años está en el Sector 4.
- e) Sara no limpia la jaula de la Jirafa ni la del Gorila.
- f) El limpiador que limpia la jaula del León está en el Sector 3.
- g) El limpiador del Sector 1 no tiene ni 25 ni 40 años.
- i) El limpiador del Sector 4 es Sara, pero no tiene 20 años.

13.- ¿Qué recinto limpia José?

- a) Jirafa
- b) León
- c) Gorila
- d) Acuario

14.- ¿Qué Jaula limpia Antonio?

- a) Jirafa
- b) León
- c) Gorila
- d) Acuario

15.- ¿Qué jaula limpia Pedro?

- a) Jirafa
- b) León
- c) Gorila
- d) Acuario

16.- ¿Quién es el más mayor?

- a) Pedro
- b) Antonio
- c) José
- d) Sara

17.- ¿Quién es el más pequeño?

- a) Pedro
- b) Antonio
- c) José
- d) Sara

18.- ¿Quién trabaja en el Sector 3?

- a) Pedro
- b) Antonio
- c) José
- d) Sara

19.- ¿Qué edad tiene Pedro?

- a) 20
- b) 25
- c) 35
- d) 40

20.- ¿Quién trabaja en el Sector 1?

- a) Pedro
- b) Antonio
- c) José
- d) Sara

SOLUCIONES

01.-

- 1.- 98 77 81
- 2.- 85 17 88
- 3.- 99 97 18
- 4.- 55 77 19
- 5.- 11 71 91
- 6.- 88 87 59
- 7.- 91 87 17
- 8.- 77 91 81
- 9.- 11 71 87
- 10.- 88 91 97

02.- a., 03.- b., 04.- a, 05.- a, 06.- d, 07.- a, 08.- d, 09.- a, 10.- b,

11.-

- a) 1-9.
- b) 2-5.
- c) 3-7.
- d) 4-6.
- e) 5-10.
- f) 6-3.
- g) 7-1.
- h) 8-2.
- i) 9-8.
- j) 10-4.

12.- c, 13.- b, 14.- a, 15.- c, 16.- d, 17.- a, 18.- c, 19.- a, 20.- a.